



MATEMÁTICA PRIMERO BÁSICO

1 al 7 de julio de 2020

Indicadores: Cuentan de 1 en 1 números dados en una secuencia numérica hasta 15, partiendo de 0, cuentan hasta 20 de 2 en 2, partiendo de 0, y cuentan hasta 60 de 5 en 5 partiendo de 0.
Representan cantidades de manera pictórica en el ámbito del 10 al 20.
Conocer el valor de las unidades y decenas en la formación de un número.

Instrucciones:

- Realiza las siguientes actividades con ayuda de un adulto.
- Escribe la fecha que realizas la actividad en tu cuaderno de matemáticas(forro azul)

Actividad N°1 Contar números en el ámbito del 0 al 60

Con ayuda de un adulto, observa el video que te ayudara a memorizar los números del 0 al 60.

Cuenta de uno en uno desde 0 al 60. lo puedes hacer con material concreto (botones, porotos, tapitas).

Luego contando de 2 en 2 desde 0 al 20

Ahora de 5 en 5 desde 0 al 60.

Cuenta de 2 en 2 desde 20 hasta 0.

Puedes ayudarte con el panel de los números 0,1,2,3,4,5,6,7,8, 9,10.....

Deberás repetirlo, varias veces para que los puedas conocer, aprender y memorizar.


1	2	3	4	5	6	7	8	9	10
11	12	13	14	15	16	17	18	19	20
21	22	23	24	25	26	27	28	29	30
31	32	33	34	35	36	37	38	39	40
41	42	43	44	45	46	47	48	49	50
51	52	53	54	55	56	57	58	59	60



1. Con la ayuda de un adulto, anota en tu cuaderno, el desarrollo de las actividades.

a) Dibuja conjuntos con el número de cada etiqueta. Observa el ejemplo.

Ejemplo:



13

11

19

14

b) Escribe en tu cuaderno el nombre de cada número de la serie.

- 11 once
- 12 doce
- 13 trece
- 14 catorce
- 15 quince
- 16 dieciséis
- 17 diecisiete
- 18 dieciocho
- 19 diecinueve
- 20 veinte




Actividad N°2

Leo y represento números hasta el 20

La familia del 10 corresponde a aquellos números que están formados por 10 o una decena más ,0,1,2,3,4,5,6,7,8,9.

- a) Dibuja en tu cuaderno este árbol llamado manzano y ubica las manzanas con los números del 11 al 19. Recuerda pintarlo...

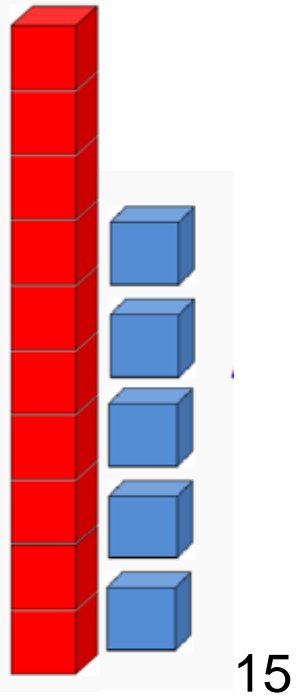




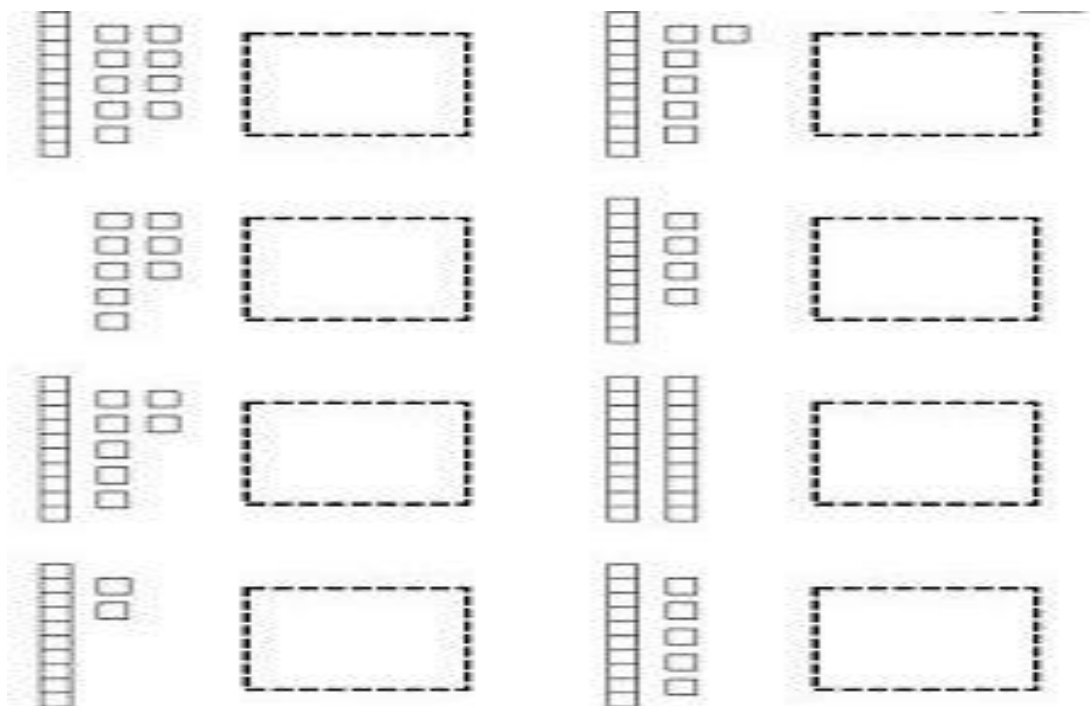
Representamos **la unidad** y **la decena**:

La decena con una barra de color rojo y **la unidad** con un cuadro de color azul.

Ejemplo:



Con la ayuda de un adulto copia en tu cuaderno los ejercicios, recuerda que la barra que representa la decena es de color rojo y los cuadros que representan la unidad de color azul y escribe el número representado.






COLEGIO YANGTSÉ
PROF. GLORIA BRAVO H
PROF. SANDRA RODRÍGUEZ B
2020

b) Dibuja los bloques para representar los números de las etiquetas, no olvides que las unidades son de color azul y la decena de color rojo.

Observa el ejemplo:



13
16
20
19



AUTOEVALUACIÓN

Para evaluar el trabajo usaremos el semáforo

Evalúo mi trabajo:

- Colorea usando lápiz color verde cuando sabes todo y no te cuesta nada
- Colorea con lápiz color amarillo cuando sientas que sabes, pero no completamente.
- Colorea con lápiz de color rojo cuando sientas que no entiendes nada.
- Colorea utilizando el color que según sientas que te representa más frente a cada afirmación.

Afirmaciones	Sé todo 	Me cuesta 	Debo seguir practicando 
1.- Reconozco los números del 0 al 20.			
2.- Represento en forma pictórica los números del 10 al 20			
3.-Escribo el nombre de los números			
4.- Comprendo el concepto de la unidad y decena.			



COLEGIO YANGTSÉ
PROF. GLORIA BRAVO H
PROF. SANDRA RODRÍGUEZ B
2020

Por favor, informar la recepción
de este material al correo
correspondiente a su curso
indicado abajo.

Muchas gracias

Para consultas con respecto a esta actividad, puede comunicarse al siguiente correo electrónico:

Primero A: Profesora Gloria Bravo H.

Primeroa.consultas2020@gmail.com entre las 9:00 y 13.00 horas.

Primero B: Profesora Sandra Rodríguez B.

sandrayangtse@gmail.com entre las 9.00 y 13:00 horas.